

寄居子ども博士検定 答え

寄居子ども博士検定は、
いかがでしたか？

みなさんに寄居町のことを
たくさん知ってもらえたら、
うれしいです。



寄居子ども博士検定認定基準

- ◆ 90点以上・・・「寄居子ども博士」に認定
- ◆ 80～89点・・・三つ星に認定 ★★★
- ◆ 70～79点・・・二つ星に認定 ★★
- ◆ 60～69点・・・一つ星に認定 ★

令和6年12月1日

寄居町教育委員会

1. 令和6年4月1日時点の寄居町の人口を次のうちから選びなさい。

【四択】

- ① 123,573人
- ② 31,894人
- ③ 43,573人
- ④ 53,573人

答え ② (31,894人)

2. 右図の黒く塗られている部分は寄居町です。寄居町はA~Gの市町村と隣り合っています。Aの市町村を次のうちから選びなさい。【四択】



- ① 熊谷市
- ② 本庄市
- ③ 美里町
- ④ 深谷市

答え ④ (深谷市)


A: 深谷市 B: 美里町 C: 長瀨町 D: 皆野町
E: 東秩父村 F: 小川町 G: 嵐山町

3. 寄居町のシンボルである【町章】を次のうちから選びなさい。【四択】



答え ①

4. 寄居町のシンボルである【町の花】の名前を答えなさい。【記述】



答え カタクリ

5. 下の文章は、自然と産業が調和した自然エネルギーにあふれるまちづくりを推進するため、平成25年に出された「より・()エコタウン推進のまち宣言」です。()に入る一文字を答えなさい。【記述】

1 エネルギーの地産地消を目指します (Energy) 2 環境との調和を目指します (Environment)

3 町の経済成長を目指します (Economy) 4 より良いライフへの移行を目指します (Ecology)

答え E

6. 寄居駅には秩父鉄道、JR八高線、() の3つの鉄道が通っています。

() に入る鉄道名を次のうちから選びなさい。【四択】

- ① 東武秩父線 ② 西武秩父線 ③ 東武東上線 ④ 東武伊勢崎線

答え ③ (東武東上線)

7. 北条氏が関東で勢力を誇っていた時代、北条家三代目当主の北条氏康が、3人の息子たちを関東にある3つの城の城主にしていたことがきっかけで、その城があった寄居町と東京都の(A)市、神奈川県の(B)市で姉妹都市盟約を結んでいます。

次のうち(A)と(B)に入る組み合わせで正しいものを選びなさい。【四択】

- ① (A) 八王子 (B) 鎌倉
 ② (A) 武蔵野 (B) 鎌倉
 ③ (A) 武蔵野 (B) 小田原
 ④ (A) 八王子 (B) 小田原

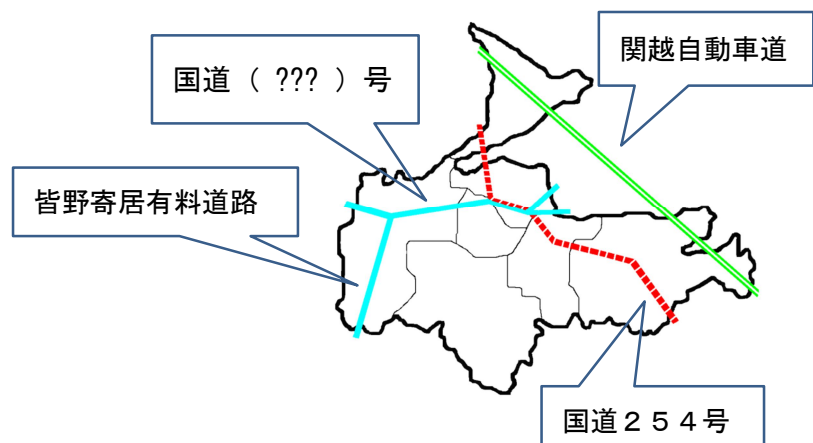
3人の兄弟は、次男：北条氏政（小田原城主）
 三男：北条氏照（八王子城主）
 四男：北条氏邦（八王子城）

答え ④ (A：八王子 B：小田原)

8. 寄居町を通る国道()号の渋滞をなくすため、平成13年に寄居町と皆野町をつなぐ「皆野寄居有料道路」がつけられました。

() に入る数字を答えなさい。【記述】

答え 140



9. 令和4年に開催された北京^{ペキン}パラリンピックのスノーボード競技に出場した市川貴仁^{いちかわたかひと}選手の種目を次のうちから選びなさい。【四択】



- ① 大回^{だいかいてん}転・アルペン^{ふくごう}複合
- ② モーグル・ハーフパイプ
- ③ スノーボードクロス・バンクドスラローム
- ④ スキークロス・ビッグエア

答え ③スノーボードクロス・バンクドスラローム

10. 寄居町はアメリカ合衆国^{がっしゅうこく}オハイオ州^{しゅう}（ ）市と、2013年12月に友好宣言^{ゆうこうせんげん}をしました。（ ）にあてはまる名前を選びなさい。【四択】



- ①メアリスビル
- ②メリーヒルズ
- ③ビバリーヒルズ
- ④メリーポピンズ

答え ①（メアリスビル）

11. 町民^{ちょうみん}のみなさんが安心^{あんしん}して暮らせるまちづくりを行っている、今みなさんが検定^{けんてい}を受けているこの場所^{ばしょ}はどこかを選びなさい。【四択】

- ①寄居町役場
- ②寄居町中央公民館
- ③寄居町立総合体育館
- ④男衾コミュニティセンター



答え ①（寄居町役場）

ここは役場6階の会議室です。

12. 寄居町立図書館^{ちようりつとしよかん}では、自分が読^よんだ本のタイトルや著者^{ちよしゃ}などを書き込み、その本を讀んで感じたことを記録^{きろく}できるように「読書通鳥^{どくしょ????}」を配布^{はいふ}しています。通鳥の読み方をひらがなで答えなさい。【記述】

通鳥に記録した本が50冊になると図書館表彰、100冊になると教育委員会表彰があります。目指せ100冊！

答え つうちょう

13. 平成30年度から寄居運動公園内に、さまざまな遊具で遊ぶことができる「() 元気パーク」がオープンしました。
 () にあてはまる言葉を次のうちから選びなさい。【四択】

- ①わくわく ②どきどき ③いろいろ ④いきいき

町民のみなさんから要望の多かった「子ども連れで出かけやすい場所」として作られました。

答え ④ (いきいき)

14. 鉢形城公園内にある、町の天然記念物で樹齢およそ150年といわれるエドヒガンザクラの愛称を選びなさい。【四択】



- ①北条桜 ②江戸桜 ③氏邦桜 ④鉢形桜

平成30年にエドヒガンザクラの愛称を募集し、応募総数174件の中から選ばれました。

答え ③ (氏邦桜)

15. 令和6年から配信されている観光アプリ()では、寄居の観光スポットの紹介やAR衣装着用記念撮影、鉢形城の復元CGなどを楽しむことができます。
 () にあてはまる言葉を次のうちから選びなさい。【四択】

①寄居町観光案内アプリ～寄居にヨッテコ!～

②鉢形城へGO!～寄居攻防戦～

③VS 北条氏邦

④風雲Yotte GO!謎解き寄居町～鉢形城攻防戦～

このほかにも、町内周遊スタンプラリーや籠城戦ゲームなど、色々なコンテンツを楽しむことができます。

答え ④ (風雲 Yotte GO! 謎解き寄居町～鉢形城攻防戦～)

16. 令和元年度に、川の博物館の水車が日本で1番大きい水車となりました。その水車の大きさを次のうちから選びなさい。【四択】




- ① 2.3m ② 23m ③ 24.2m ④ 42.2m

これまでの日本一は、岐阜県恵那市の道の駅にある、24メートルの水車でした。

答え ③ (24.2m)

17. 男衾中学校出身の陸上選手である、設楽悠太選手は東京マラソン2018で、2時間()分11秒という、当時の日本新記録を出しました。



()に入る数字を答えなさい。【記述】

答え 2時間 6分 11秒

現在の日本記録は、鈴木健吾選手が2021年のびわ湖毎日マラソンで記録した2時間4分56秒です。

18. 令和3年に開催された東京オリンピックで見事メダルを獲得し、寄居町出身で初めてのオリンピックメダリストとなった柔道選手の名前を書きなさい。



【記述・ひらがなでもよい】

答え 新井千鶴 (あらいちづる)

19. 寄居町の魅力を全国に発信してもらうために、平成29年に寄居中学校出身のシンガーソングライターの馬場俊英さん、平成30年に女優の熊谷真実さんが「寄居町()大使」に任命されました。()に当てはまる言葉はなんですか？【記述】

答え ふるさと



20. 毎年5月に行われている「()まつり」は
 せんごくじだい いくさ さいげん まつ さんかしゃ ほうじょうぐん
 戦国時代の戦を再現した祭りです。参加者が北条軍
 とよとみぐん たまよどかわら はくりよく こうぼうせん
 と豊臣軍に分かれ、玉淀河原で迫力のある攻防戦を
 くり広げます。




() に当てはまる名前を次のうちから選びなさい。【四択】

- ① 玉淀北上 (たまよどほくじょう) ② 寄居鳳凰 (よりいほうおう)
 ③ 玉淀北條 (たまよどほうじょう) ④ 寄居北條 (よりいほうじょう)

「北条」ではなく、「北條」であることがポイント！

答え ④ (寄居北條)

21. 「関東一の水祭り」とも言われている「玉淀()祭」
 は、毎年8月の第1土曜日に玉淀河原で行われ、水の事故が
 なくなるようにという願いが込められています。



() に入る名前を答えなさい。【記述】

答え 水天宮 (すいてんぐう)

22. 風布地区にはたくさんの()園があり、毎年10月中旬から12
 月中旬までの期間()狩りが楽しめます。

() に入る食べ物を答えなさい。【記述】

答え みかん

23. 平成31年に商標登録された「寄居()ナス」は、
 青ナスの一種で淡い緑色をしており、加熱すると果肉がとても
 やわらかくなるのが特徴です。



() に入る言葉を次のうちから選びなさい。【四択】

- ① いきいき ② かちかち ③ とろとろ ④ ふわふわ

答え ③ (とろとろ)

24. 鉢形城の下を流れる荒川の両岸は玉淀河原とよばれていますが、「玉淀」という名前の由来を、次のうちから選びなさい。【四択】

- ①水のだよみの中に玉を投げ入れて遊んでいた。
- ②水のだよみに玉という名前の人に住んでいた。
- ③石が水のだよみで削られて、玉のように丸くなる場所だった。
- ④玉のように美しい水のだよみだった。

答え ④


25. 円良田湖は、人によって造られた湖です。細長い形をしていて、寄居町と美里町にまたがっており、魚釣りやお花見が楽しめます。



円良田湖の読み方をひらがなで書きなさい。【記述】

答え つぶらた (だ) こ

26. 昭和60年に環境庁(現在の環境省)から日本水・風布川が「()百選」に認定されました。




()に入る言葉を次のうちから選びなさい。【四択】

- ①水の郷
- ②名水
- ③水源の森
- ④名城

町全域が「水の郷百選」、日本水の森が「水源の森百選」、鉢形城が「日本100名城」に選ばれています。

答え ② (名水)

27. 風布川が玉淀湖に流れ込む手前がある滝で、2本の滝がよりそうように流れ落ちている様子から、夫婦滝と名前がつけられました。



夫婦滝の読み方を次のうちから選びなさい。【四択】

- ①ふうふだき
- ②めおとだき
- ③おっとふだき
- ④かっふるだき

答え ② (めおとだき)

28. () 山は、戦国時代に見張りをする場所として使われており、鉢形城のまわりで異変が起きたときに山の上から鐘をついて知らせたことが、名前の由来になったといわれています。

() に入る名前を次のうちから選びなさい。【四択】

- ①金尾 かなお ②鐘撞堂 かねつきどう ③金好堂 かねずきどう ④鐘鳴堂 かねなりどう

答え ② (鐘撞堂)

29. 金尾山は、1万株ものツツジが生えていて、平成25年には全国()の会場となり、当時の皇太子殿下(現在の天皇陛下)がお見えになりました。

() に入る名前を次のうちから選びなさい。【四択】

- ①植樹祭 しょくじゆさい ②大樹祭 たいじゆさい ③育毛祭 いくもうさい ④育樹祭 いくじゆさい

答え ④ (育樹祭)

30. 高さが582メートルの、寄居町の中で一番高い山を次のうちから選びなさい。【四択】

- ①高尾山 たかおさん ②車山 くるまやま ③愛宕山 あたごさん ④釜伏山 かまふせやま

車山は224m、愛宕山は170m、高尾山は八王子市にある山

答え ④ (釜伏山)

31. 宗像神社は、大雨になると洪水の被害をもたらす荒川をしずめ、舟の運行の安全をいのるためにたてられた神社です。

「宗像」の読み方をひらがなで書きなさい。【記述】


答え むなかた

32. 末野の善導寺には江戸時代に描かれたといわれる「() 格天井」とよばれる天井画があります。

() に入る言葉を次のうちから選びなさい。【四択】

- ①彩の国郷土かるた画 さい くにかきょうど が ②百人一首画 ひやくにんいっしゅ が

- ③十人十色画 じゅうにんという が ④鳥獣戯画 ちようじゅうぎ が



答え ② 百人一首画

33. 鉢形城公園にも流れている（ ）は、深く細い谷からできており、川底には自然の作用でけずられた釜（深い淵）が多く作られ、四十八釜と呼ばれています。（ ）に入るこの川の名前を次のうちから選びなさい。【四択】
 ①荒川 ②利根川 ③深沢川 ④多摩川


答え ③（深沢川）

34. 末野にある少林寺の裏山を山頂まで歩くと、（ ）体をこえる石仏の羅漢さま（仏教で高い位についていた人）に出会うことができます。（ ）に入る数を次のうちから選びなさい。【四択】

①50 ②100 ③350 ④500

答え ④（500）

35. （ ）公園は、歌舞伎役者の七代目・松本幸四郎の別邸（家）があった場所につくられた公園で、秋になると紅葉が美しい人気のスポットです。（ ）に入る言葉を次のうちから選びなさい。




【四択】

①雉宮 ②雀宮 ③鳥宮 ④燕宮

答え ②雀宮

36. 折原地区にある中間平緑地公園では、9月頃に「タカの渡り」を観察することができます。次のうち、通常、中間平緑地公園で観察できない鳥を選びなさい。【四択】



①トビ ②ハヤブサ ③チョウゲンボウ ④ハシビロコウ

答え ④ハシビロコウ

【中間平で観察できる鳥】

タカ類：オオタカ、ハチクマ、トビ、サシバ、ノスリ、ハイタカ
 ハヤブサ類：ハヤブサ、チョウゲンボウ

④ハシビロコウは、動かない鳥として有名なアフリカに生息する鳥です。



37. 三ヶ山にある三ヶ山緑地公園は、環境整備センターの（ ）だった場所を整備してつくられました。公園には、陸上競技用トラックや全面芝生の多目的広場などがあります。



（ ）に入る言葉を次のうちから選びなさい。【四択】

- ① 駐車場 ② 最終処分場 ③ 生産工場 ④ ゴルフ場

答え ② (最終処分場)

38. 約3万年前のものと思われる石の斧(局部磨製石斧)が発見された、寄居町で確認されている一番古い遺跡の名前を、次のうちから選びなさい。【四択】



- ① 三内丸山遺跡 ② 用土平遺跡 ③ 折原遺跡 ④ 末野遺跡

①三内丸山遺跡は青森県にある縄文時代の遺跡、②用土平遺跡は弥生時代の遺跡、④末野遺跡は旧石器時代の遺跡
※③折原遺跡という遺跡はない

答え ④ (末野遺跡)

39. 古墳時代から平安時代にかけての寄居町では、山の斜面を利用して（ ）という土器を焼くための窯がつけられました。末野周辺で、窯の跡がたくさん見つかったことから、その場所は末野窯跡群とよばれています。

（ ）に入る名前を次のうちから選びなさい。【四択】

- ① はにわ ② 土偶 ③ 須恵器 ④ 縄文土器

答え ③ (須恵器)

40. 鎌倉時代、幕府がある鎌倉(神奈川県)と群馬県方面を結ぶ鎌倉街道の一つである「かみつみち」とよばれる道が寄居町に通っていました。

「かみつみち」を漢字で書きなさい。【記述】



答え 上道

41. 鉢形城は、北条氏邦^{?????}の時代に大きくなりましたが、
 1590年に豊臣秀吉軍^{とよとみひでよしぐん}との戦いがあり、北条氏邦は
 鉢形城をあけわたしました。現在は、国の史跡^{しせき}に指定
 されたり「日本100名城^{めいじょう}」に選ばれています。
 「氏邦」の読み方をひらがなで書きなさい。【記述】



答え うじくに

42. ()とは城の正面^{しょうめん}という意味で、これに対して「搦手^{からめて}」が裏面^{うらめん}となります。

()に入る名称を次のうちから選びなさい。【四択】

- ①大手^{おおて} ②王手^{おうて} ③天守閣^{てんしゅかく} ④土塁^{どるい}

答え ① (大手)

43. 鉢形城は、()という人が、築城^{ちくじょう}（作った）し、北条氏邦の時代に城が大きくなっていきました。

()に入る人の名前を次のうちから選びなさい。【四択】

- ①前田慶次^{まえだけいじ} ②安倍晴明^{あべのせいめい} ③豊臣秀吉^{とよとみひでよし} ④長尾景春^{ながおかげはる}

答え ④ (長尾景春)

44. ()は、上に人が乗れるスペースを作った門で、見張り^{みは}りや防衛^{ぼうぎょ}に使われました。鉢形城歴史館内に再現されたこの門の名前
 を次のうちから選びなさい

- ①大門^{だいもん} ②やぐら門^{もん} ③半蔵門^{はんぞうもん} ④鳥居^{とりい}

答え ② (やぐら門)




45. 鉢形城には「二の曲輪」や「秩父曲輪」など、色々な曲輪があります。曲輪について述べた文章として正しいものを選びなさい。【四択】

- ①土塁や堀などで区切られた場所のこと
- ②敵の侵入を防ぐために土を盛って作った壁のこと
- ③敵の侵入を防ぐための溝のこと
- ④城の出入り口のこと

答え ① (土塁や堀などで区切られた場所のこと)

46. 寄居町に流れる逆川には「西行 ()」とよばれる橋がかかっています。()に入る言葉は次のうちどれでしょう？

- ①渡り橋
- ②戻り橋
- ③進み橋
- ④歩き橋



答え ② (戻り橋)

47. 寄居町のシンボルカラーをひらがなで書きなさい。【記述】

答え えんじいろ

48. 「寄居」の名前は「人が寄る町」、「()」を意味するところから付けられたと考えられます。()に入る言葉は次のうちどれですか？

- ①人が集う町
- ②人が居る町
- ③人が住む町
- ④人が来る町

答え ① (人が集う町)

49. 江戸時代、山林で切られた木材はいかだの形にして、江戸 (今の東京都) まで荒川を使って流して運ばれていました。その方法を「いかだ流し」といいます。また、木材を運んでいたことから、荒川は「()」とよばれていました。()に入る言葉は次のうちどれでしょう？

- ①あらかわの道
- ②木材の道
- ③木の道
- ④いかだの道

答え ③ 木の道

50. 寄居町と深谷市、() の3市町は、協力しあって、ごみを処理する「大里広域市町村圏組合」というものを作りました。

() に入る市町村を次のうちから選びなさい。【四択】

- ①本庄市 ②小川町 ③行田市 ④熊谷市

答え ④熊谷市